

Chapitre 3 : Le tourisme et ses espaces.

Comment se manifeste le tourisme et quels en sont ces effets ?

Activité 1 : C'est quoi le tourisme ?

Document 1 : Capture d'écran d'un site de voyage, lastminute.com

The screenshot shows the lastminute.com website interface. At the top, there is a navigation bar with the logo and contact information. The main content area features a travel offer for 'Club Lookéa Riviera Maya 4*'. A large image shows a tropical beach with a wooden walkway. To the right, there is a price box indicating a 24% discount, a price of 1,299€ per person, and a departure date of Paris on 10/01/2016. Below this, there is a 'Séjour Mexique' section with bullet points describing the location. A weather table for Riviera Maya is also visible, showing monthly temperature ranges. At the bottom, there is a reservation form with fields for the number of travelers, departure month, city, and duration.

Menu **lastminute.com** Info & Réservation 0892 68 61 00 Aide ?

Voyage > Voyage mexique > Voyage riviera-maya > Club lookéa riviera maya 4*

Club Lookéa Riviera Maya 4*

Économie de 24% **1 299€** par pers au lieu de 1 699€

Prochain dép. à ce tarif Paris, le 10/01/2016

Voir nos prix

Séjour Mexique

- A proximité de superbes sites
- Au coeur de Puerto Aventuras
- Idéal pour se reposer

Info et réservation au : 01 85 65 09 87 (prix d'un appel local) Rét : 133203

MOIS	MOY	MAX
Jan	22°	27°
Fev	22°	28°
Mar	22°	29°
Avr	24°	30°
Mai	24°	30°
Juin	25°	30°
Juil	25°	30°
Aou	25°	31°
Sep	25°	30°
Oct	24°	30°
Nov	23°	28°
Dec	22°	27°

Plusieurs durées de séjour Tout compris Plusieurs villes **LOOK** Excellent, 4 note basée sur 5 375 avis

Réserver ce séjour

1 Complétez le nombre de voyageurs :

Adultes Enfants (0-17 ans)

2 Personnalisez votre séjour :

Mois de départ : janvier 2016 Ville de départ : Paris Durée de séjour : 9 jours / 7 nuits

Rappel de votre sélection : 2 adultes | janvier 2016 | départ de Paris | 9 jours / 7 nuits

Question :

- 1) Quelle destination est présentée sur ce site ?
- 2) Comment appelle-t-on les personnes qui voyagent pour le plaisir ?

→ BILAN : A toi d'écrire le bilan suivant sur ton cahier.

Tourisme : Voyager pour le plaisir, hors de son lieu de vie habituel, pour une durée de moins d'un an, sans activité rémunérée (salaire)

Activité 2: Étude de cas d'une station balnéaire.
Cancùn au Mexique.



Document 1 : Photographie de la station balnéaire de Cancùn.



LEGENDE :

- 1 : Mer des Caraïbes
- 2 : Plage
- 3 : Grands hôtels
- 4 : Route
- 5 : Lagune (étendue d'eau séparée par la mer par une fine bande de terre)
- 6 : Centre des Congrès.

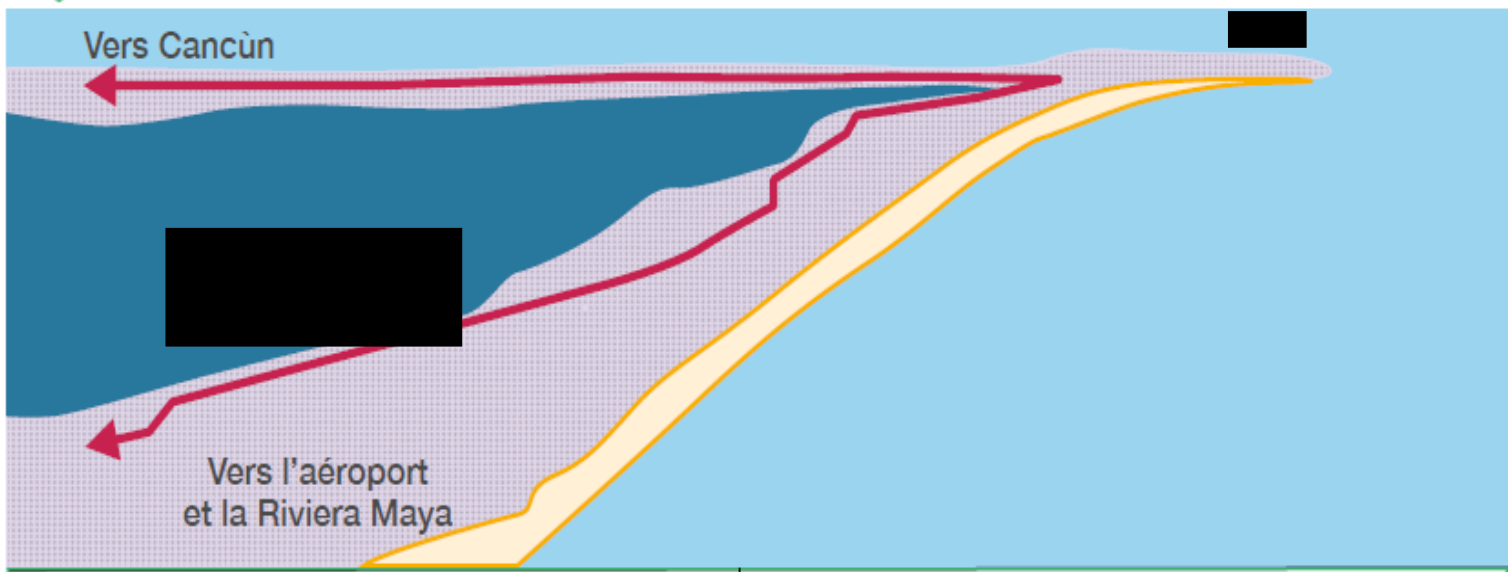
→ Consigne : A toi de replacer les éléments de la légende dans le tableau ci dessous. Sont-ils des espaces naturels ou sont-ils des espaces transformés (=aménagés) par l'Homme ?

Espaces naturels	Espaces transformés par l'Homme
•	•
•	•
•	•

Activité 3: Réaliser le croquis d'un station balnéaire.

- Croquis de la station balnéaire de Cancùn.

1 La station balnéaire de Cancùn




→ Consigne : A toi de réaliser la légende du croquis ci dessus.

Mot a replacer : Route – Lagune – Mer – Infrastructure pour touriste - Plage

Légende :


I) Une environnement exceptionnel.


II) Un espace aménagé pour le tourisme.











.....

→ BILAN : A l'aide des activités, à toi de définir ce qu'est une station balnéaire :

Aide : Qui profite de cet espace, quels sont les bâtiments qu'on retrouve, pour quelle activité économique ?

Station balnéaire :

.....

Activité 4 : Cancùn, un espace touristique, quels sont les effets du tourisme sur cet espace.

Document 1 : Croquis de la région « Riviera de Maya » où se trouve Cancùn.



-  Ancien village de pêcheurs
-  Station balnéaire aménagée en 1974 par le gouvernement, aujourd'hui saturée
-  Ville de Cancùn où habitent les travailleurs mexicains (700 000 habitants)
-  Route littorale rénovée
-  Aéroport international de Cancùn, le plus fréquenté du Mexique
-  Nouvelles stations balnéaires
-  Riviera Maya
-  Espace photographié sur le document 1

Question :

1) Avant d'être une station balnéaire, Cancùn était ?

.....

2) Quand la station balnéaire a été construite ?

.....

3) Quand Cancùn était saturée (pleine) qu'a fait le gouvernement mexicain ?

.....

Document 2 : Les effets positifs du tourisme.

PIB (ensemble des richesses) total du Mexique
118 milliards de dollars

Revenus du tourisme au Mexique
 10 % du PIB
11,6 milliards de dollars

Revenus du tourisme de Riviera Maya et de Cancùn
 5 % du PIB
4,2 milliards de dollars

Document 3 : Photographie d'une famille mexicaine vivant à Cancùn



Question :

4) **Document 2**, Le tourisme à Cancùn et dans la Riviera de Maya a permis de créer quoi ?

.....

5) **Document 3**, A l'aide de la photographie, explique pourquoi la population locale (mexicaine) ne profite pas du tourisme ?

.....

.....

Document 3 : Les conséquences sur l'environnement.

Cancún, un cauchemar écologique ?

1 **C**ancún, la ville qui accueille le Sommet mondial sur le climat¹, est loin d'être un exemple en matière de protection de l'environnement. La ville compte aujourd'hui 36 000 chambres d'hôtel, dont la majorité s'empilent sur une étroite bande de sable entre lagune et mer des Caraïbes. [...] Les mangroves², barrières naturelles contre les ouragans, ont été détruites à 95 %. [...] L'exemple le plus frappant est le site

5 du Moon Palace, siège du Sommet. Des dizaines d'hectares de constructions en béton et de golfs y ont été arrachés aux mangroves. Ces mêmes golfs sont responsables de la contamination de l'eau du sous-sol par les engrais. Autre conséquence de cette intense activité touristique, [...] la production record de déchets... Presque 400 tonnes par jour sont déchargées au beau milieu des périphéries pauvres de la ville.

Léonore Mahieux, *Le Journal du dimanche*, 28 novembre 2010.

Question :

6) **Document 3**, Quelles sont les trois conséquences négatives sur l'environnement ?

-
-
-

Activité 5: Mise en perspective à l'échelle mondiale.

Document 1 : Carte du tourisme international.



Question :

1) Quelles sont les trois foyers émetteurs de touristes (Lieu d'où viennent les touristes)

-
-
-

2) Quels sont les dix pays les plus visités au monde ?

.....

.....

3) Sont-ils des pays dit "riche" (développé) ou "pauvre" (en voie de développement ou pays moins développés) ?

.....

→ **Consigne :** A l'aide des connaissances accumulées au fil des activités, remplis la carte mentale ci dessous.

