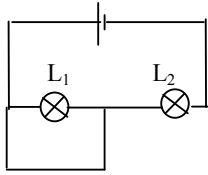
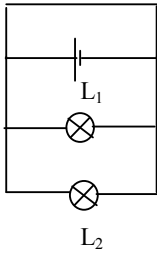
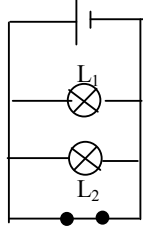
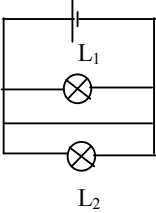
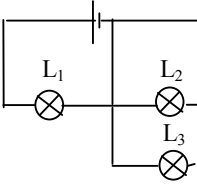
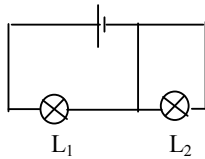


Repassse en rouge le chemin suivi par le courant puis choisi la bonne réponse dans le tableau.

Montage	Mes prévisions sur l'effet du court-circuit sur les dipôles
	<p>L₁ est allumée / éteinte</p> <p>L₂ est allumée / éteinte</p> <p>Pile fonctionne normalement / chauffe trop</p>
	<p>L₁ est allumée / éteinte</p> <p>L₂ est allumée / éteinte</p> <p>Pile fonctionne normalement / chauffe trop</p>
	<p>L₁ est allumée / éteinte</p> <p>L₂ est allumée / éteinte</p> <p>Pile fonctionne normalement / chauffe trop</p>
	<p>L₁ est allumée / éteinte</p> <p>L₂ est allumée / éteinte</p> <p>Pile fonctionne normalement / chauffe trop</p>
	<p>L₁ est allumée / éteinte</p> <p>L₂ est allumée / éteinte</p> <p>L₃ est allumée / éteinte</p> <p>Pile fonctionne normalement / chauffe trop</p>
	<p>L₁ est allumée / éteinte</p> <p>L₂ est allumée / éteinte</p> <p>Pile fonctionne normalement / chauffe trop</p>